


Combien de cubes y a-t-il dans cette construction ?




Solution :

Combien de cubes y a-t-il dans cette construction ?




Solution :

Combien de cubes y a-t-il dans cette construction ?



Solution :

Combien de cubes y a-t-il dans cette construction ?



Solution :

Combien de points noirs y a-t-il en tout ?




Solution :

Combien de points noirs y a-t-il en tout ?




Solution :

Combien de points noirs y a-t-il en tout ?



Solution :

Combien de points noirs y a-t-il en tout ?



Solution :

Quel est le prix du sac à main ?



$$30\text{€} + 28\text{€} + \text{?} = 100\text{€}$$

Solution :

Quel est le prix du sac à main ?



$$30\text{€} + 28\text{€} + \text{?} = 100\text{€}$$

Solution :

Quel est le prix du sac à main ?



$$30\text{€} + 28\text{€} + \text{?} = 100\text{€}$$

Solution :

Quel est le prix du sac à main ?



$$30\text{€} + 28\text{€} + \text{?} = 100\text{€}$$

Solution :

Combien de gobelets faudrait-il en tout pour obtenir 5 étages ?



Solution :

Combien de gobelets faudrait-il en tout pour obtenir 5 étages ?



Solution :

Combien de gobelets faudrait-il en tout pour obtenir 5 étages ?



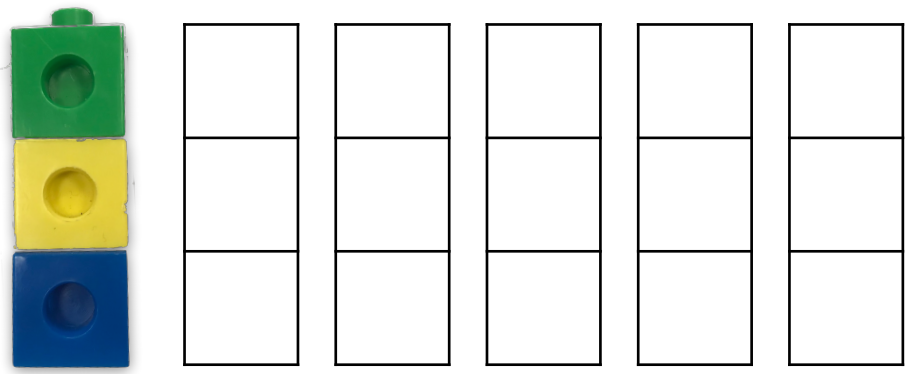
Solution :

Combien de gobelets faudrait-il en tout pour obtenir 5 étages ?

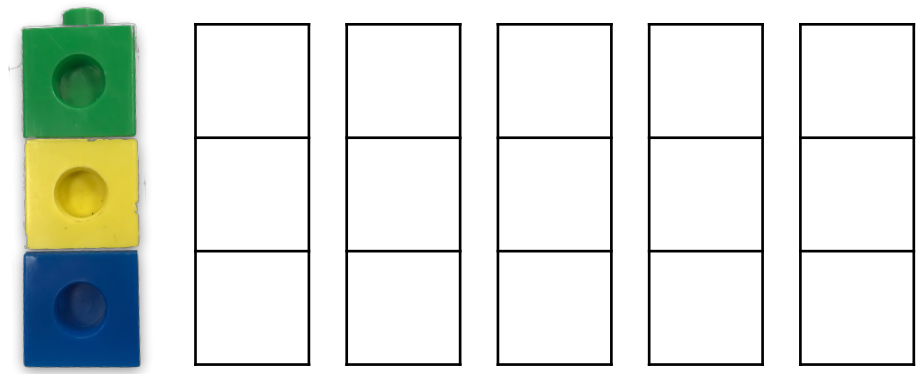


Solution :

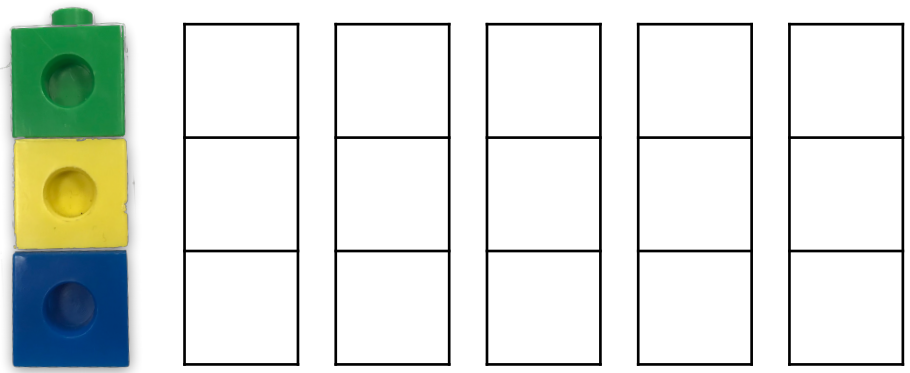
Trouve toutes les façons d'empiler ces trois cubes.



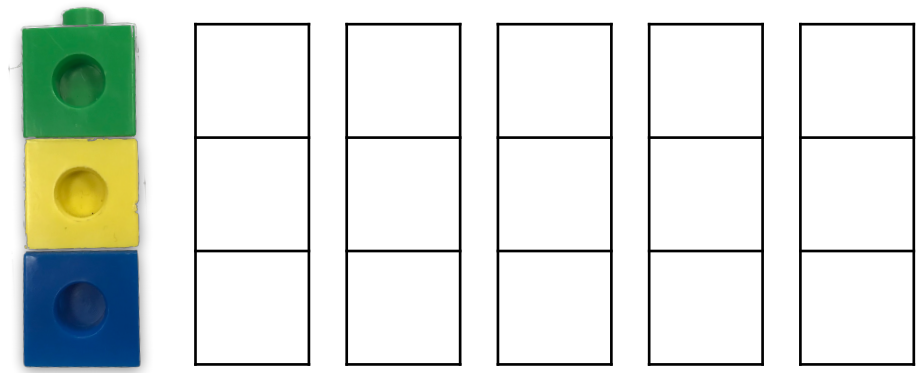
Trouve toutes les façons d'empiler ces trois cubes.




Trouve toutes les façons d'empiler ces trois cubes.




Trouve toutes les façons d'empiler ces trois cubes.




Dessine la position des pièces du tangram pour réaliser un carré.




Dessine la position des pièces du tangram pour réaliser un carré.

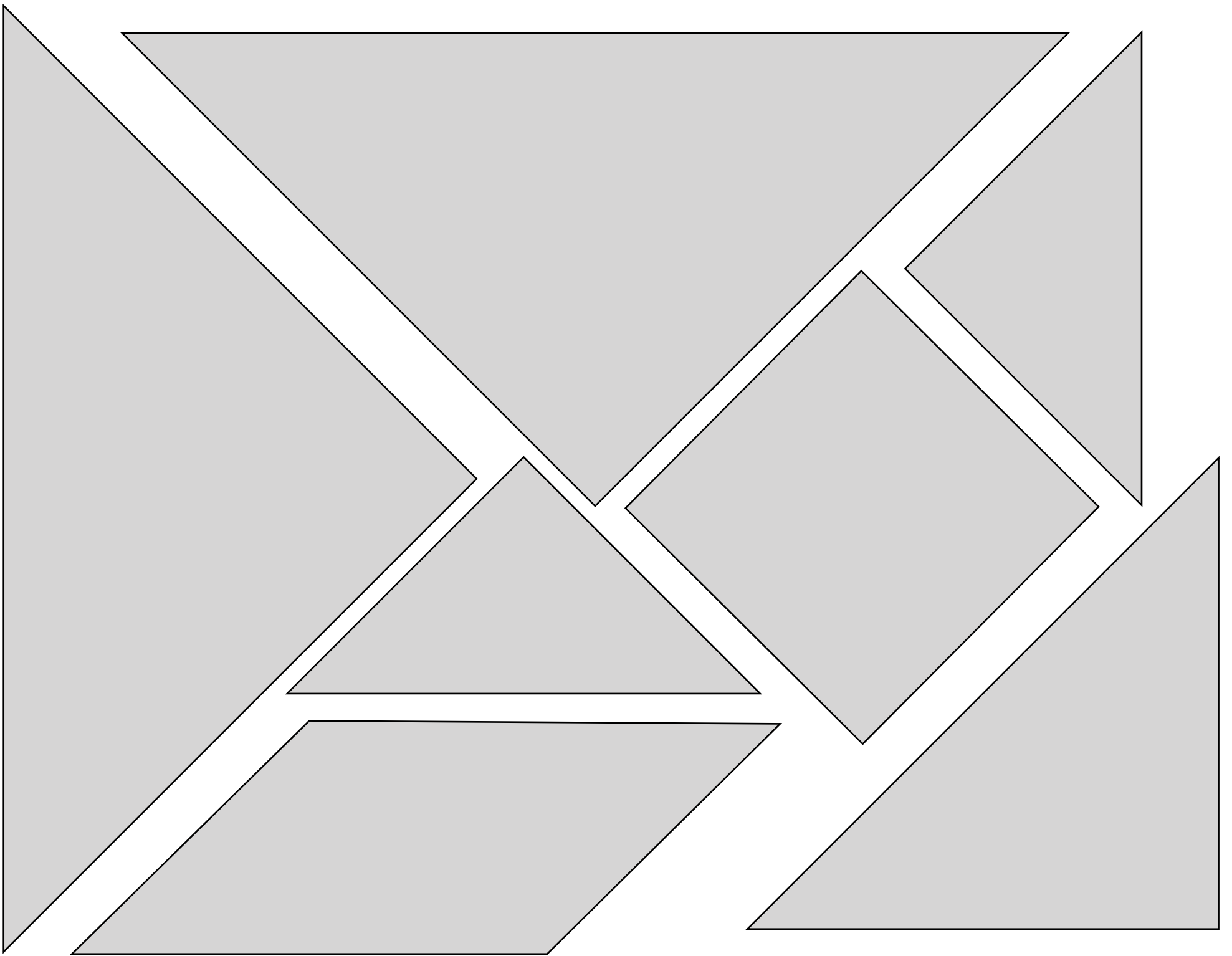


Dessine la position des pièces du tangram pour réaliser un carré.



Dessine la position des pièces du tangram pour réaliser un





Quelle heure sera-t-il dans 24 heures ?



Solution :

Quelle heure sera-t-il dans 24 heures ?



Solution :

Quelle heure sera-t-il dans 24 heures ?



Solution :

Quelle heure sera-t-il dans 24 heures ?




Solution :

Combien de carrés y a-t-il en tout ?




Solution :

Combien de carrés y a-t-il en tout ?




Solution :

Combien de carrés y a-t-il en tout ?



Solution :

Combien de carrés y a-t-il en tout ?



Solution :

