


# Mon carnet de problèmes



**NIVEAU 8**

1

2

3

4

5

6

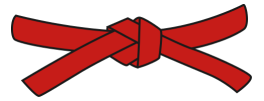

7

8

9

10

# Mon carnet de problèmes



**NIVEAU 8**

1

2

3

4

5

6


7

8

9

10

# Mon carnet de problèmes



**NIVEAU 8**

1

2

3

4

5

6

7

8

9

10

1

La hauteur de la tour Eiffel est de 324 mètres. Le Burj Khalifa mesure 504 mètres de plus que la tour Eiffel. L'Empire State Building mesure 447 mètres de moins que le Burj Khalifa.

**Quelle est la hauteur de l'Empire State Building ?**

1

La hauteur de la tour Eiffel est de 324 mètres. Le Burj Khalifa mesure 504 mètres de plus que la tour Eiffel. L'Empire State Building mesure 447 mètres de moins que le Burj Khalifa.

**Quelle est la hauteur de l'Empire State Building ?**

1

La hauteur de la tour Eiffel est de 324 mètres. Le Burj Khalifa mesure 504 mètres de plus que la tour Eiffel. L'Empire State Building mesure 447 mètres de moins que le Burj Khalifa.

**Quelle est la hauteur de l'Empire State Building ?**

2

Dans son coffre-fort, Emma a 15 billets de 50 euros ainsi que 12 billets de 20 euros.

**Combien Emma a-t-elle en tout dans son coffre-fort ?**

<hr/>	

2

Dans son coffre-fort, Emma a 15 billets de 50 euros ainsi que 12 billets de 20 euros.

**Combien Emma a-t-elle en tout dans son coffre-fort ?**

<hr/>	

2

Dans son coffre-fort, Emma a 15 billets de 50 euros ainsi que 12 billets de 20 euros.

**Combien Emma a-t-elle en tout dans son coffre-fort ?**

<hr/>	

3

Ce weekend, Ernest a parcouru en tout 245 kilomètres à vélo.  
Il a parcouru 65 kilomètres le samedi matin et 59 kilomètres le samedi après-midi.

**Combien de kilomètres a-t-il parcourus le dimanche ?**

3

Ce weekend, Ernest a parcouru en tout 245 kilomètres à vélo.  
Il a parcouru 65 kilomètres le samedi matin et 59 kilomètres le samedi après-midi.

**Combien de kilomètres a-t-il parcourus le dimanche ?**

3

Ce weekend, Ernest a parcouru en tout 245 kilomètres à vélo.  
Il a parcouru 65 kilomètres le samedi matin et 59 kilomètres le samedi après-midi.

**Combien de kilomètres a-t-il parcourus le dimanche ?**

4

Le maraicher a planté 34 rangs de 15 batavias et 28 rangs de 15 laitues.

**Combien de salades a-t-il plantées en tout ?**

4

Le maraicher a planté 34 rangs de 15 batavias et 28 rangs de 15 laitues.

**Combien de salades a-t-il plantées en tout ?**

4

Le maraicher a planté 34 rangs de 15 batavias et 28 rangs de 15 laitues.

**Combien de salades a-t-il plantées en tout ?**

5

En vendant des meubles sur une brocante, Sonia, Jules et Alex ont récolté 992 euros. Ils veulent se partager cet argent équitablement.

**Combien chacun reçoit-il ?**

**Combien reste-t-il ?**

5

En vendant des meubles sur une brocante, Sonia, Jules et Alex ont récolté 992 euros. Ils veulent se partager cet argent équitablement.

**Combien chacun reçoit-il ?**

**Combien reste-t-il ?**

5

En vendant des meubles sur une brocante, Sonia, Jules et Alex ont récolté 992 euros. Ils veulent se partager cet argent équitablement.

**Combien chacun reçoit-il ?**

**Combien reste-t-il ?**

6

Le fermier a récolté 992 kilogrammes de pommes de terre.  
Il veut les vendre par caisses de 330 kilogrammes.

**Combien de caisses peut-il faire ?**

**Combien de kilogrammes de pommes de terre reste-t-il ?**

6

Le fermier a récolté 992 kilogrammes de pommes de terre.  
Il veut les vendre par caisses de 330 kilogrammes.

**Combien de caisses peut-il faire ?**

**Combien de kilogrammes de pommes de terre reste-t-il ?**

6

Le fermier a récolté 992 kilogrammes de pommes de terre.  
Il veut les vendre par caisses de 330 kilogrammes.

**Combien de caisses peut-il faire ?**

**Combien de kilogrammes de pommes de terre reste-t-il ?**

7

Le fermier a récolté 350 kg de pommes de terre ce matin et 400 kg cet après-midi. Il a maintenant un stock de 992 kg en tout.

**Combien de kg avait-il déjà avant sa récolte d'aujourd'hui ?**


7

Le fermier a récolté 350 kg de pommes de terre ce matin et 400 kg cet après-midi. Il a maintenant un stock de 992 kg en tout.

**Combien de kg avait-il déjà avant sa récolte d'aujourd'hui ?**


7

Le fermier a récolté 350 kg de pommes de terre ce matin et 400 kg cet après-midi. Il a maintenant un stock de 992 kg en tout.

**Combien de kg avait-il déjà avant sa récolte d'aujourd'hui ?**




8

Le fermier a un stock de 242 kg de pommes de terres. Aujourd'hui il récolte encore 350 kg le matin et 400 kg l'après-midi.

**Combien de kg de pommes de terres a-t-il en tout maintenant ?**

8

Le fermier a un stock de 242 kg de pommes de terres. Aujourd'hui il récolte encore 350 kg le matin et 400 kg l'après-midi.

**Combien de kg de pommes de terres a-t-il en tout maintenant ?**

8

Le fermier a un stock de 242 kg de pommes de terres. Aujourd'hui il récolte encore 350 kg le matin et 400 kg l'après-midi.

**Combien de kg de pommes de terres a-t-il en tout maintenant ?**

9

Le fermier avait un stock de 242 kg de pommes de terre. Après sa récolte d'aujourd'hui, il a maintenant un stock de 992 kg. Il a récolté la même quantité le matin et l'après-midi. **Combien de kg a-t-il récoltés le matin ? Combien de kg a-t-il récoltés l'après-midi ?**

<hr/>	

9

Le fermier avait un stock de 242 kg de pommes de terre. Après sa récolte d'aujourd'hui, il a maintenant un stock de 992 kg. Il a récolté la même quantité le matin et l'après-midi. **Combien de kg a-t-il récoltés le matin ? Combien de kg a-t-il récoltés l'après-midi ?**

<hr/>	

9

Le fermier avait un stock de 242 kg de pommes de terre. Après sa récolte d'aujourd'hui, il a maintenant un stock de 992 kg. Il a récolté la même quantité le matin et l'après-midi. **Combien de kg a-t-il récoltés le matin ? Combien de kg a-t-il récoltés l'après-midi ?**

<hr/>	

10

Tiago a 15 billets de 50 euros.  
Selma a 835 euros.

**Combien Selma a-t-elle de plus que Tiago ?**

10

Tiago a 15 billets de 50 euros.  
Selma a 835 euros.

**Combien Selma a-t-elle de plus que Tiago ?**

10

Tiago a 15 billets de 50 euros.  
Selma a 835 euros.

**Combien Selma a-t-elle de plus que Tiago ?**