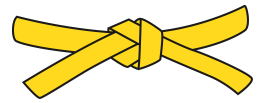



Mon carnet de problèmes



NIVEAU 2

11

12

13

14

15

16

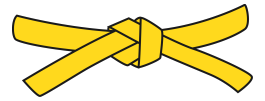
17

18

19

20

Mon carnet de problèmes



NIVEAU 2

11

12

13

14

15

16

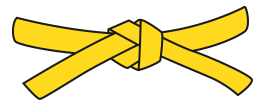
17

18

19

20

Mon carnet de problèmes



NIVEAU 2

11

12

13

14

15

16

17

18

19

20

11

Gaspard a acheté 5 pantalons, 4 chemises et 4 pullovers.

Combien de vêtements a-t-il achetés en tout ?

11

Gaspard a acheté 5 pantalons, 4 chemises et 4 pullovers.

Combien de vêtements a-t-il achetés en tout ?

11

Gaspard a acheté 5 pantalons, 4 chemises et 4 pullovers.

Combien de vêtements a-t-il achetés en tout ?

12

Pendant la fête de l'école, Alex a vendu 4 gâteaux à 3 euros l'unité. Il a également vendu 3 jus de fruits à 2 euros l'unité.

Quelle somme d'argent a-t-il récoltée en tout ?

12

Pendant la fête de l'école, Alex a vendu 4 gâteaux à 3 euros l'unité. Il a également vendu 3 jus de fruits à 2 euros l'unité.

Quelle somme d'argent a-t-il récoltée en tout ?

12

Pendant la fête de l'école, Alex a vendu 4 gâteaux à 3 euros l'unité. Il a également vendu 3 jus de fruits à 2 euros l'unité.

Quelle somme d'argent a-t-il récoltée en tout ?

13

Ce matin, Marco cueille 14 champignons en forêt. En rentrant à vélo, il en perd 5 qui tombent du panier. Il y retourne l'après-midi et en trouve 8 autres. **Combien de champignons a-t-il au final ce soir pour faire son omelette ?**

13

Ce matin, Marco cueille 14 champignons en forêt. En rentrant à vélo, il en perd 5 qui tombent du panier. Il y retourne l'après-midi et en trouve 8 autres. **Combien de champignons a-t-il au final ce soir pour faire son omelette ?**

13

Ce matin, Marco cueille 14 champignons en forêt. En rentrant à vélo, il en perd 5 qui tombent du panier. Il y retourne l'après-midi et en trouve 8 autres. **Combien de champignons a-t-il au final ce soir pour faire son omelette ?**

14

Pour l'anniversaire de Mario, son papa a cuisiné des beignets au chocolat. À la fin du goûter, il n'en reste plus que 8. Les enfants en ont mangé 5 et les adultes en ont mangé 4. **Combien de beignets le papa de Mario avait-il préparés en tout ?**

14

Pour l'anniversaire de Mario, son papa a cuisiné des beignets au chocolat. À la fin du goûter, il n'en reste plus que 8. Les enfants en ont mangé 5 et les adultes en ont mangé 4. **Combien de beignets le papa de Mario avait-il préparés en tout ?**

14

Pour l'anniversaire de Mario, son papa a cuisiné des beignets au chocolat. À la fin du goûter, il n'en reste plus que 8. Les enfants en ont mangé 5 et les adultes en ont mangé 4. **Combien de beignets le papa de Mario avait-il préparés en tout ?**

15

Lucie a dans sa tirelire 12 euros d'économies. Avec ses frères Théo et Sasha, elle réalise quelques travaux de jardinage chez leur voisine qui leur donne pour cela 15 euros à se partager. **De quelle somme Lucie dispose-t-elle en tout après ces travaux ?**

15

Lucie a dans sa tirelire 12 euros d'économies. Avec ses frères Théo et Sasha, elle réalise quelques travaux de jardinage chez leur voisine qui leur donne pour cela 15 euros à se partager. **De quelle somme Lucie dispose-t-elle en tout après ces travaux ?**

15

Lucie a dans sa tirelire 12 euros d'économies. Avec ses frères Théo et Sasha, elle réalise quelques travaux de jardinage chez leur voisine qui leur donne pour cela 15 euros à se partager. **De quelle somme Lucie dispose-t-elle en tout après ces travaux ?**

16

Maya a 8 ans. Elle a 4 ans de moins que son frère Zakaria.
Zakaria a 5 ans de plus que Yanis.

Quel âge a Yanis ?

16

Maya a 8 ans. Elle a 4 ans de moins que son frère Zakaria.
Zakaria a 5 ans de plus que Yanis.

Quel âge a Yanis ?

16

Maya a 8 ans. Elle a 4 ans de moins que son frère Zakaria.
Zakaria a 5 ans de plus que Yanis.

Quel âge a Yanis ?

17

En allant à la librairie, Élise trouve un livre intéressant coutant 18 euros. Elle a dans sa poche un billet de 10 euros et un billet de 5 euros.

Combien lui manque-t-il pour pouvoir l'acheter ?

17

En allant à la librairie, Élise trouve un livre intéressant coutant 18 euros. Elle a dans sa poche un billet de 10 euros et un billet de 5 euros.

Combien lui manque-t-il pour pouvoir l'acheter ?

17

En allant à la librairie, Élise trouve un livre intéressant coutant 18 euros. Elle a dans sa poche un billet de 10 euros et un billet de 5 euros.

Combien lui manque-t-il pour pouvoir l'acheter ?

18

La maitresse a acheté 3 paquets contenant chacun 4 stylos bleus.
Elle a également acheté 5 stylos rouges.

Combien de stylos a-t-elle achetés en tout ?

18

La maitresse a acheté 3 paquets contenant chacun 4 stylos bleus.
Elle a également acheté 5 stylos rouges.

Combien de stylos a-t-elle achetés en tout ?

18

La maitresse a acheté 3 paquets contenant chacun 4 stylos bleus.
Elle a également acheté 5 stylos rouges.

Combien de stylos a-t-elle achetés en tout ?

19

Dans la classe des CE1, il y a 19 élèves.
Aujourd'hui, il y a 9 filles et 6 garçons de présents.

Combien d'absents y a-t-il ?

19

Dans la classe des CE1, il y a 19 élèves.
Aujourd'hui, il y a 9 filles et 6 garçons de présents.

Combien d'absents y a-t-il ?

19

Dans la classe des CE1, il y a 19 élèves.
Aujourd'hui, il y a 9 filles et 6 garçons de présents.

Combien d'absents y a-t-il ?

20

Albert le fermier a 6 animaux dans sa ferme. Il y a des vaches et des poules. Comme il s'ennuie, il compte toutes leurs pattes et en trouve 18.

Combien de vaches a-t-il ? Combien de poules a-t-il ?

<hr/>	

20

Albert le fermier a 6 animaux dans sa ferme. Il y a des vaches et des poules. Comme il s'ennuie, il compte toutes leurs pattes et en trouve 18.

Combien de vaches a-t-il ? Combien de poules a-t-il ?

<hr/>	

20

Albert le fermier a 6 animaux dans sa ferme. Il y a des vaches et des poules. Comme il s'ennuie, il compte toutes leurs pattes et en trouve 18.

Combien de vaches a-t-il ? Combien de poules a-t-il ?

<hr/>	