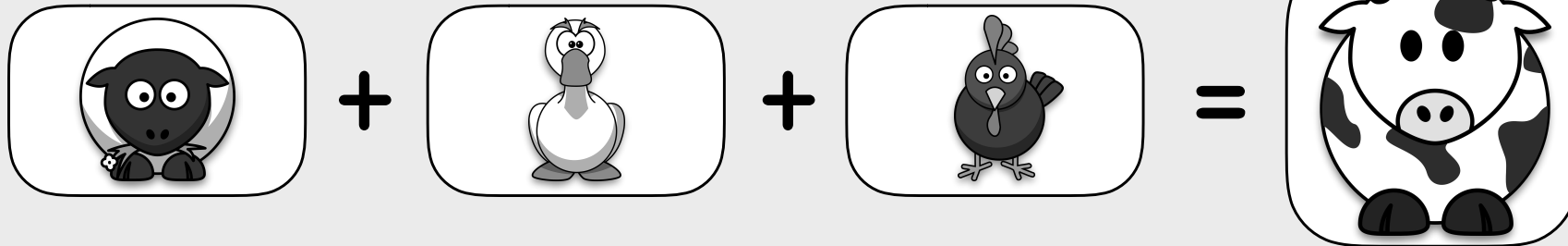


ÉQUATION



A visual equation consisting of four rounded rectangular boxes. The first box contains a black sheep icon. The second box contains a white duck icon. The third box contains a black chicken icon. These three boxes are separated by plus signs. An equals sign follows, leading to a fourth box containing a black and white cow icon.

NIVEAU 1

NIVEAU 2

NIVEAU 3

NIVEAU 4

NIVEAU 5

NIVEAU 6

NIVEAU 7

NIVEAU 8

32 équations illustrées à photocopier ou à projeter
8 niveaux de difficulté

ÉQUATION

NIVEAU 1

$$\text{chicken} + \text{chicken} + \text{chicken} = 6$$

$$\text{chicken} + \text{hippo} + \text{hippo} = 8$$

$$\text{chicken} + \text{hippo} + \text{elephant} = 10$$

$$\text{chicken} = \square$$

$$\text{hippo} = \square$$

$$\text{elephant} = \square$$

ÉQUATION

NIVEAU 1

$$\text{zebra} + \text{zebra} + \text{zebra} = 9$$

$$\text{zebra} + \text{turtle} + \text{turtle} = 7$$

$$\text{zebra} + \text{turtle} + \text{hippo} = 10$$

$$\text{zebra} = \square$$

$$\text{turtle} = \square$$

$$\text{hippo} = \square$$

ÉQUATION

NIVEAU 1

$$\text{sheep} + \text{sheep} + \text{sheep} = 9$$

$$\text{sheep} + \text{penguin} + \text{penguin} = 7$$

$$\text{sheep} + \text{penguin} + \text{cow} = 9$$

$$\text{sheep} = \square$$

$$\text{penguin} = \square$$

$$\text{cow} = \square$$

ÉQUATION

NIVEAU 1

$$\text{mouse} + \text{mouse} + \text{mouse} = 6$$

$$\text{mouse} + \text{penguin} + \text{penguin} = 10$$

$$\text{mouse} + \text{penguin} + \text{hippo} = 9$$




$$\text{mouse} = \square$$




$$\text{penguin} = \square$$




$$\text{hippo} = \square$$

ÉQUATION

NIVEAU 2


 +  +  = 9

 +  +  = 13

 +  +  = 14




 =




 =




 =

ÉQUATION


NIVEAU 2


 +  +  = 12

 +  +  = 10

 +  +  = 12




 =




 =




 =


ÉQUATION

NIVEAU 2

 +  +  = 6

 +  +  = 12

 +  +  = 11




 =




 =




 =


ÉQUATION

NIVEAU 2


 +  +  = 9

 +  +  = 11

 +  +  = 12

 =

 =

 =

ÉQUATION

NIVEAU 3

$$\text{Pig} + \text{Pig} + \text{Pig} = 15$$

$$\text{Pig} + \text{Chicken} + \text{Chicken} = 9$$

$$\text{Pig} + \text{Chicken} + \text{Elephant} = 14$$

$$\text{Pig} = \square$$

$$\text{Chicken} = \square$$

$$\text{Elephant} = \square$$

ÉQUATION

NIVEAU 3

$$\text{Zebra} + \text{Zebra} + \text{Zebra} = 18$$

$$\text{Zebra} + \text{Turtle} + \text{Turtle} = 10$$

$$\text{Zebra} + \text{Turtle} + \text{Hippo} = 16$$

$$\text{Zebra} = \square$$

$$\text{Turtle} = \square$$

$$\text{Hippo} = \square$$

ÉQUATION

NIVEAU 3

$$\text{Duck} + \text{Duck} + \text{Duck} = 12$$

$$\text{Duck} + \text{Sheep} + \text{Sheep} = 14$$

$$\text{Duck} + \text{Sheep} + \text{Cow} = 18$$

$$\text{Duck} = \square$$

$$\text{Sheep} = \square$$

$$\text{Cow} = \square$$

ÉQUATION

NIVEAU 3

$$\text{Rabbit} + \text{Rabbit} + \text{Rabbit} = 9$$

$$\text{Rabbit} + \text{Penguin} + \text{Penguin} = 15$$

$$\text{Rabbit} + \text{Penguin} + \text{Pig} = 16$$

$$\text{Rabbit} = \square$$

$$\text{Penguin} = \square$$

$$\text{Pig} = \square$$

ÉQUATION

NIVEAU 4

$$\text{Pig} + \text{Pig} + \text{Pig} = 18$$

$$\text{Pig} + \text{Chicken} + \text{Chicken} = 12$$

$$\text{Pig} + \text{Chicken} - \text{Elephant} = 3$$

$$\text{Pig} = \square$$

$$\text{Chicken} = \square$$

$$\text{Elephant} = \square$$

ÉQUATION

NIVEAU 4

$$\text{Zebra} + \text{Zebra} + \text{Zebra} = 15$$

$$\text{Zebra} + \text{Turtle} + \text{Turtle} = 13$$

$$\text{Zebra} + \text{Turtle} - \text{Hippo} = 1$$

$$\text{Zebra} = \square$$

$$\text{Turtle} = \square$$

$$\text{Hippo} = \square$$

ÉQUATION

NIVEAU 4

$$\text{Duck} + \text{Duck} + \text{Duck} = 12$$

$$\text{Duck} + \text{Sheep} + \text{Sheep} = 18$$

$$\text{Duck} + \text{Sheep} - \text{Cow} = 1$$

$$\text{Duck} = \square$$

$$\text{Sheep} = \square$$

$$\text{Cow} = \square$$

ÉQUATION

NIVEAU 4

$$\text{Penguin} + \text{Penguin} + \text{Penguin} = 18$$

$$\text{Penguin} + \text{Rabbit} + \text{Rabbit} = 16$$

$$\text{Penguin} + \text{Rabbit} - \text{Pig} = 1$$




$$\text{Penguin} = \square$$




$$\text{Rabbit} = \square$$




$$\text{Pig} = \square$$


ÉQUATION


NIVEAU 5


 +  +  = 15

 +  +  = 23

 +  +  = 20




 =




 =




 =


ÉQUATION

NIVEAU 5


 +  +  = 18

 +  +  = 20

 +  +  = 21




 =




 =




 =


ÉQUATION

NIVEAU 5


 +  +  = 12

 +  +  = 24

 +  +  = 22




 =




 =




 =


ÉQUATION


NIVEAU 5


 +  +  = 15

 +  +  = 21

 +  +  = 20

 =

 =

 =

ÉQUATION

NIVEAU 6

$$\text{Elephant} + \text{Elephant} + \text{Elephant} = 30$$

$$\text{Elephant} + \text{Chicken} + \text{Chicken} = 22$$

$$\text{Elephant} + \text{Chicken} + \text{Pig} = 25$$

$$\text{Elephant} = \square$$

$$\text{Chicken} = \square$$

$$\text{Pig} = \square$$

ÉQUATION

NIVEAU 6

$$\text{Turtle} + \text{Turtle} + \text{Turtle} = 21$$

$$\text{Turtle} + \text{Zebra} + \text{Zebra} = 25$$

$$\text{Turtle} + \text{Zebra} + \text{Hippo} = 28$$

$$\text{Turtle} = \square$$

$$\text{Zebra} = \square$$

$$\text{Hippo} = \square$$

ÉQUATION

NIVEAU 6

$$\text{Sheep} + \text{Sheep} + \text{Sheep} = 24$$

$$\text{Sheep} + \text{Goat} + \text{Goat} = 22$$

$$\text{Sheep} + \text{Goat} + \text{Cow} = 28$$

$$\text{Sheep} = \square$$

$$\text{Goat} = \square$$

$$\text{Cow} = \square$$

ÉQUATION

NIVEAU 6

$$\text{Penguin} + \text{Penguin} + \text{Penguin} = 30$$

$$\text{Penguin} + \text{Rabbit} + \text{Rabbit} = 24$$

$$\text{Penguin} + \text{Rabbit} + \text{Pig} = 30$$

$$\text{Penguin} = \square$$

$$\text{Rabbit} = \square$$

$$\text{Pig} = \square$$

ÉQUATION

NIVEAU 7

$$\text{Chicken} + \text{Chicken} + \text{Chicken} = 27$$

$$\text{Chicken} + \text{Pig} + \text{Pig} = 33$$

$$\text{Chicken} + \text{Pig} - \text{Elephant} = 8$$

$$\text{Chicken} = \square$$

$$\text{Pig} = \square$$

$$\text{Elephant} = \square$$

ÉQUATION

NIVEAU 7

$$\text{Turtle} + \text{Turtle} + \text{Turtle} = 24$$

$$\text{Turtle} + \text{Zebra} + \text{Zebra} = 30$$

$$\text{Turtle} + \text{Zebra} - \text{Hippo} = 7$$

$$\text{Turtle} = \square$$

$$\text{Zebra} = \square$$

$$\text{Hippo} = \square$$

ÉQUATION

NIVEAU 7

$$\text{Duck} + \text{Duck} + \text{Duck} = 24$$

$$\text{Duck} + \text{Sheep} + \text{Sheep} = 32$$

$$\text{Duck} + \text{Sheep} - \text{Cow} = 7$$

$$\text{Duck} = \square$$

$$\text{Sheep} = \square$$

$$\text{Cow} = \square$$

ÉQUATION

NIVEAU 7

$$\text{Rabbit} + \text{Rabbit} + \text{Rabbit} = 27$$

$$\text{Rabbit} + \text{Penguin} + \text{Penguin} = 31$$

$$\text{Rabbit} + \text{Penguin} - \text{Pig} = 6$$




$$\text{Rabbit} = \square$$




$$\text{Penguin} = \square$$




$$\text{Pig} = \square$$


ÉQUATION


NIVEAU 8


 +  +  = 33

 +  +  = 27

 -  +  = 20




 =




 =




 =

ÉQUATION


NIVEAU 8


 +  +  = 36

 +  +  = 30

 -  +  = 17




 =




 =




 =

ÉQUATION

NIVEAU 8

 +  +  = 36

 +  +  = 28

 -  +  = 20




 =




 =




 =

ÉQUATION

NIVEAU 8


 +  +  = 33

 +  +  = 29

























































































 -  +  = 20

 =

 =

 =

1	1	1	1	1	1	1	1	1	1	1	1	1
2	2	2	2	2	2	2	2	2	2	2	2	2
3	3	3	3	3	3	3	3	3	3	3	3	3
4	4	4	4	4	4	4	4	4	4	4	4	4
5	5	5	5	5	5	5	5	5	5	5	5	5
6	6	6	6	6	6	6	6	6	6	6	6	6
7	7	7	7	7	7	7	7	7	7	7	7	7
8	8	8	8	8	8	8	8	8	8	8	8	8
9	9	9	9	9	9	9	9	9	9	9	9	9
10	10	10	10	10	10	10	11	11	11	11	11	11
12	12	12	12	12	12	12	13	13	13	13	13	13
14	14	14	14	14	14	14	15	15	15	15	15	15
16	16	16	16	16	17	17	17	17	18	18	18	18

 équation	 équation	 équation	 équation	 équation	 équation	 équation	 équation
 équation	 équation	 équation	 équation	 équation	 équation	 équation	 équation
 équation	 équation	 équation	 équation	 équation	 équation	 équation	 équation
 équation	 équation	 équation	 équation	 équation	 équation	 équation	 équation
 équation	 équation	 équation	 équation	 équation	 équation	 équation	 équation
 équation	 équation	 équation	 équation	 équation	 équation	 équation	 équation
 équation	 équation	 équation	 équation	 équation	 équation	 équation	 équation
 équation	 équation	 équation	 équation	 équation	 équation	 équation	 équation
 équation	 équation	 équation	 équation	 équation	 équation	 équation	 équation
 équation	 équation	 équation	 équation	 équation	 équation	 équation	 équation
 équation	 équation	 équation	 équation	 équation	 équation	 équation	 équation

Mes étoiles d'équation



NIVEAU 8

NIVEAU 7

NIVEAU 6

NIVEAU 5

NIVEAU 4

NIVEAU 3

NIVEAU 2

NIVEAU 1

Mes étoiles d'équation



NIVEAU 8

NIVEAU 7

NIVEAU 6

NIVEAU 5

NIVEAU 4

NIVEAU 3

NIVEAU 2

NIVEAU 1