

Défi maths !

Multiplier en ligne

1

Pour fêter son anniversaire, Lilou achète 5 paquets de 40 biscuits au chocolat et 5 paquets de 8 biscuits à la vanille.

Combien de biscuits a-t-elle en tout pour fêter son anniversaire ?



.....

.....

.....

.....

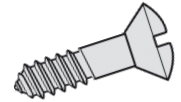
Défi maths !

Multiplier en ligne

2

Bob achète 4 boîtes de 100 vis à bois, 4 boîtes de 20 vis à plâtre.

Combien de vis a-t-il achetées en tout ?



.....

.....

.....

.....

Défi maths !

Multiplier en ligne

3

Léa la couturière achète 3 sachets de 200 boutons jaunes, 3 sachet de 40 boutons bleus et 3 sachets de 5 boutons noirs.

Combien de boutons a-t-elle achetés en tout ?



.....

.....

.....

.....

Défi maths !

Multiplier en ligne

4

Maxime a dans sa tirelire 3 billets de 100€, 3 billets de 50€ et 3 billets de 5€.

De quelle somme d'argent dispose-t-il en tout ?



.....

.....

.....

.....

**40 biscuits au
chocolat**



**40 biscuits au
chocolat**



**40 biscuits au
chocolat**



**40 biscuits au
chocolat**



**40 biscuits au
chocolat**



**8 biscuits à
la vanille**



**8 biscuits à
la vanille**



**8 biscuits à
la vanille**



**8 biscuits à
la vanille**

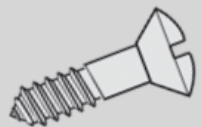


**8 biscuits à
la vanille**

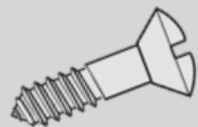




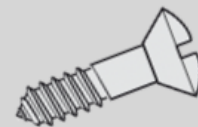
100 vis à bois



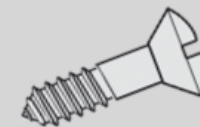
100 vis à bois



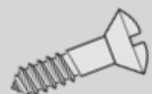
100 vis à bois



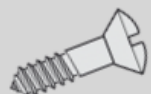
100 vis à bois



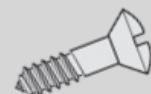
**20 vis à
plâtre**



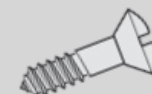
**20 vis à
plâtre**



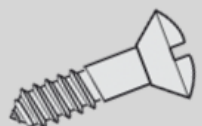
**20 vis à
plâtre**



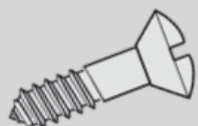
**20 vis à
plâtre**



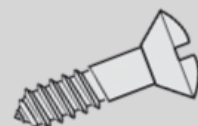
100 vis à bois



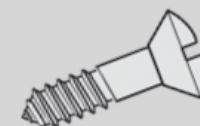
100 vis à bois



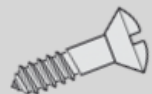
100 vis à bois



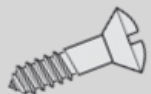
100 vis à bois



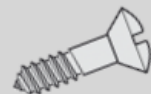
**20 vis à
plâtre**



**20 vis à
plâtre**



**20 vis à
plâtre**



**20 vis à
plâtre**

