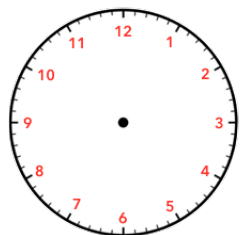


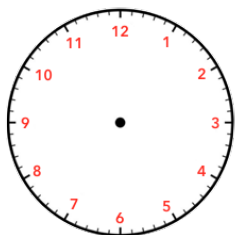
Indique l'heure du matin et de l'après-midi en dessous de chaque horloge.

matin	___ h ___ min	___ h ___ min	___ h ___ min	___ h ___ min
après-midi	___ h ___ min	___ h ___ min	___ h ___ min	___ h ___ min

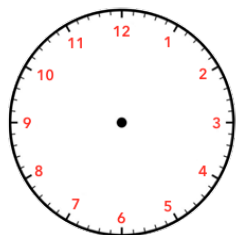
Dessine la petite et la grande aiguille en fonction de l'heure indiquée.



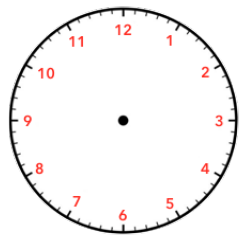
03 h 00 min



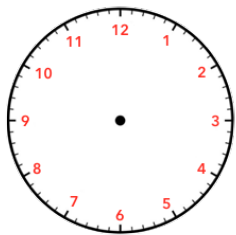
08 h 00 min



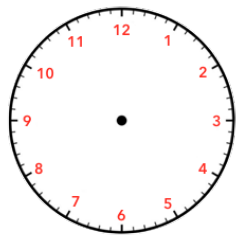
06 h 00 min



18 h 00 min



15 h 00 min

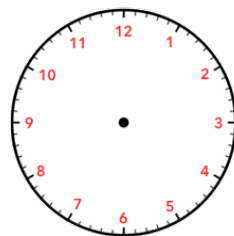


20 h 00 min

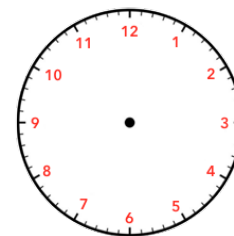
Indique l'heure du matin et de l'après-midi en dessous de chaque horloge.

matin	___ h ___ min	___ h ___ min	___ h ___ min	___ h ___ min
après-midi	___ h ___ min	___ h ___ min	___ h ___ min	___ h ___ min

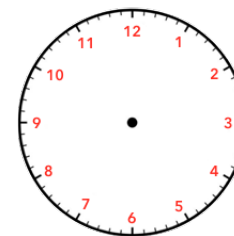
Dessine la petite et la grande aiguille en fonction de l'heure indiquée.



14 h 50 min



15 h 30 min



20 h 10 min

Signature :	Je ne sais pas encore	Je sais un peu	Je sais
Lire l'heure (heure du matin et de l'après-midi).			
Lire l'heure avec les minutes.			