



Mon carnet de problèmes



NIVEAU 6

11

12

13

14

15

16



17

18

19

20

Mon carnet de problèmes



NIVEAU 6

11

12

13

14

15

16

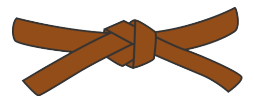

17

18

19

20

Mon carnet de problèmes



NIVEAU 6

11

12

13

14

15

16

17

18

19

20

11

Maya a dans sa réserve de billes 26 billes rouges, 26 billes vertes et 26 billes bleues.

Combien de billes a-t-elle en tout ?

11

Maya a dans sa réserve de billes 26 billes rouges, 26 billes vertes et 26 billes bleues.

Combien de billes a-t-elle en tout ?

11

Maya a dans sa réserve de billes 26 billes rouges, 26 billes vertes et 26 billes bleues.

Combien de billes a-t-elle en tout ?

12

Pour son anniversaire, Katia achète 4 tartes à 12 euros l'unité et 3 galettes à 14 euros l'unité.

Combien dépense-t-elle en tout ?

12

Pour son anniversaire, Katia achète 4 tartes à 12 euros l'unité et 3 galettes à 14 euros l'unité.

Combien dépense-t-elle en tout ?

12

Pour son anniversaire, Katia achète 4 tartes à 12 euros l'unité et 3 galettes à 14 euros l'unité.

Combien dépense-t-elle en tout ?

13

Chalumo le grand dragon rouge adore manger des citrouilles. Il en a chapardé 82 pendant l'automne et s'en ai fait une réserve. Il en a déjà mangé 29 et un ogre lui en a dérobé 26.

Combien de citrouilles lui reste-t-il ?

13

Chalumo le grand dragon rouge adore manger des citrouilles. Il en a chapardé 82 pendant l'automne et s'en ai fait une réserve. Il en a déjà mangé 29 et un ogre lui en a dérobé 26.

Combien de citrouilles lui reste-t-il ?

13

Chalumo le grand dragon rouge adore manger des citrouilles. Il en a chapardé 82 pendant l'automne et s'en ai fait une réserve. Il en a déjà mangé 29 et un ogre lui en a dérobé 26.

Combien de citrouilles lui reste-t-il ?

14

À la fin de la fête des vergers, Marco n'a plus que 15 litres de jus de pomme et 30 litres de jus de poire. Pendant la fête, il a vendu 45 litres de jus. **Combien de litres de jus avait-il en tout avant le début de la fête ?**

14

À la fin de la fête des vergers, Marco n'a plus que 15 litres de jus de pomme et 30 litres de jus de poire. Pendant la fête, il a vendu 45 litres de jus. **Combien de litres de jus avait-il en tout avant le début de la fête ?**

14

À la fin de la fête des vergers, Marco n'a plus que 15 litres de jus de pomme et 30 litres de jus de poire. Pendant la fête, il a vendu 45 litres de jus. **Combien de litres de jus avait-il en tout avant le début de la fête ?**

15

5 enfants se partagent équitablement 55 biscuits au chocolat.
Le plus petit des 5 enfants avait déjà eu 4 biscuits à la vanille.

Combien de biscuits le plus petit a-t-il en tout maintenant ?

15

5 enfants se partagent équitablement 55 biscuits au chocolat.
Le plus petit des 5 enfants avait déjà eu 4 biscuits à la vanille.

Combien de biscuits le plus petit a-t-il en tout maintenant ?

15

5 enfants se partagent équitablement 55 biscuits au chocolat.
Le plus petit des 5 enfants avait déjà eu 4 biscuits à la vanille.

Combien de biscuits le plus petit a-t-il en tout maintenant ?

16

Marceau mesure 92 cm. Il mesure 38 cm de plus que Shéhérazade.
Shéhérazade mesure 28 cm de moins que Pablo.

Quelle est la taille de Pablo ?

16

Marceau mesure 92 cm. Il mesure 38 cm de plus que Shéhérazade.
Shéhérazade mesure 28 cm de moins que Pablo.

Quelle est la taille de Pablo ?

16

Marceau mesure 92 cm. Il mesure 38 cm de plus que Shéhérazade.
Shéhérazade mesure 28 cm de moins que Pablo.

Quelle est la taille de Pablo ?

17

Perceval doit parcourir 82 kilomètres pour rejoindre Karadoc dans sa ville de Vannes. Il a déjà parcouru 26 kilomètres ce matin, puis encore 38 kilomètres cet après-midi.

Combien de kilomètres lui reste-t-il à parcourir ?

17

Perceval doit parcourir 82 kilomètres pour rejoindre Karadoc dans sa ville de Vannes. Il a déjà parcouru 26 kilomètres ce matin, puis encore 38 kilomètres cet après-midi.

Combien de kilomètres lui reste-t-il à parcourir ?

17

Perceval doit parcourir 82 kilomètres pour rejoindre Karadoc dans sa ville de Vannes. Il a déjà parcouru 26 kilomètres ce matin, puis encore 38 kilomètres cet après-midi.

Combien de kilomètres lui reste-t-il à parcourir ?

18

Dans sa sapinière, Gustave a planté 4 rangées de 17 sapins dans une première parcelle, puis 4 rangées de 8 sapins dans une seconde parcelle.

Combien de sapins a-t-il plantés en tout ?

18

Dans sa sapinière, Gustave a planté 4 rangées de 17 sapins dans une première parcelle, puis 4 rangées de 8 sapins dans une seconde parcelle.

Combien de sapins a-t-il plantés en tout ?

18

Dans sa sapinière, Gustave a planté 4 rangées de 17 sapins dans une première parcelle, puis 4 rangées de 8 sapins dans une seconde parcelle.

Combien de sapins a-t-il plantés en tout ?

19

Pour les vacances de printemps, à l'hôtel « Beau rivage », 39 chambres standards et 29 chambres grand luxe sont occupées. L'hôtel compte en tout 95 chambres.

Combien de chambres sont inoccupées ?

19

Pour les vacances de printemps, à l'hôtel « Beau rivage », 39 chambres standards et 29 chambres grand luxe sont occupées. L'hôtel compte en tout 95 chambres.

Combien de chambres sont inoccupées ?

19

Pour les vacances de printemps, à l'hôtel « Beau rivage », 39 chambres standards et 29 chambres grand luxe sont occupées. L'hôtel compte en tout 95 chambres.

Combien de chambres sont inoccupées ?

20

Lors de la récolte des pommes, Solène doit faire des caisses de 24 pommes. Elle a récolté 80 pommes en tout.

Combien de caisses peut-elle faire ?

Combien de pommes restera-t-il ?

<hr/>	

20

Lors de la récolte des pommes, Solène doit faire des caisses de 24 pommes. Elle a récolté 80 pommes en tout.

Combien de caisses peut-elle faire ?

Combien de pommes restera-t-il ?

<hr/>	

20

Lors de la récolte des pommes, Solène doit faire des caisses de 24 pommes. Elle a récolté 80 pommes en tout.

Combien de caisses peut-elle faire ?

Combien de pommes restera-t-il ?

<hr/>	