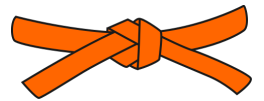


# Mon carnet de problèmes



**NIVEAU 3**

11

12

13

14

15

16

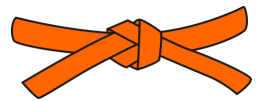

17

18

19

20

# Mon carnet de problèmes



**NIVEAU 3**

11

12

13

14

15

16

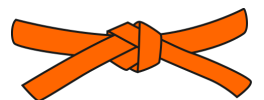

17

18

19

20

# Mon carnet de problèmes



**NIVEAU 3**

11

12

13

14

15

16

17

18

19

20

11

Trois frères décident de mettre en commun leurs économies pour offrir un cadeau à leur maman.

Gaël a 42 euros, Éric a 35 euros et Hugo a 12 euros.

**De quelle somme disposent-ils en tout ?**

11

Trois frères décident de mettre en commun leurs économies pour offrir un cadeau à leur maman.

Gaël a 42 euros, Éric a 35 euros et Hugo a 12 euros.

**De quelle somme disposent-ils en tout ?**

11

Trois frères décident de mettre en commun leurs économies pour offrir un cadeau à leur maman.

Gaël a 42 euros, Éric a 35 euros et Hugo a 12 euros.

**De quelle somme disposent-ils en tout ?**

12

Le maitre de la classe a commandé 4 paquets de crayons de couleur. Chaque paquet contient 12 crayons.

**Combien de crayons a-t-il commandés en tout ?**

12

Le maitre de la classe a commandé 4 paquets de crayons de couleur. Chaque paquet contient 12 crayons.

**Combien de crayons a-t-il commandés en tout ?**

12

Le maitre de la classe a commandé 4 paquets de crayons de couleur. Chaque paquet contient 12 crayons.

**Combien de crayons a-t-il commandés en tout ?**

13

Justin a reçu 65 euros pour son anniversaire.  
Avec cet argent, il s'est acheté un manteau à 43 euros.

**Combien d'argent lui reste-t-il ?**

13

Justin a reçu 65 euros pour son anniversaire.  
Avec cet argent, il s'est acheté un manteau à 43 euros.

**Combien d'argent lui reste-t-il ?**

13

Justin a reçu 65 euros pour son anniversaire.  
Avec cet argent, il s'est acheté un manteau à 43 euros.

**Combien d'argent lui reste-t-il ?**

14

Après la fête de l'école, il ne reste plus que 14 biscuits.  
Pendant la fête, les enfants en ont mangé 63.

**Combien de biscuits avaient été préparés pour la fête ?**

14

Après la fête de l'école, il ne reste plus que 14 biscuits.  
Pendant la fête, les enfants en ont mangé 63.

**Combien de biscuits avaient été préparés pour la fête ?**

14

Après la fête de l'école, il ne reste plus que 14 biscuits.  
Pendant la fête, les enfants en ont mangé 63.

**Combien de biscuits avaient été préparés pour la fête ?**

15

La maitresse a apporté 48 feuilles blanches. Elle les sépare en 4 paquets identiques pour les travaux de groupe.

**Combien de feuilles met-elle dans chaque paquet ?**

15

La maitresse a apporté 48 feuilles blanches. Elle les sépare en 4 paquets identiques pour les travaux de groupe.

**Combien de feuilles met-elle dans chaque paquet ?**

15

La maitresse a apporté 48 feuilles blanches. Elle les sépare en 4 paquets identiques pour les travaux de groupe.

**Combien de feuilles met-elle dans chaque paquet ?**

16

Marion a 12 ans. Elle a 64 ans de moins que sa grand-mère Louise.

Quel âge a Louise ?

16

Marion a 12 ans. Elle a 64 ans de moins que sa grand-mère Louise.

Quel âge a Louise ?

16

Marion a 12 ans. Elle a 64 ans de moins que sa grand-mère Louise.

Quel âge a Louise ?

17

Léane doit collecter 95 euros pour une association caritative.  
Elle a déjà obtenu 62 euros de dons.

**Combien lui reste-il à collecter ?**

17

Léane doit collecter 95 euros pour une association caritative.  
Elle a déjà obtenu 62 euros de dons.

**Combien lui reste-il à collecter ?**

17

Léane doit collecter 95 euros pour une association caritative.  
Elle a déjà obtenu 62 euros de dons.

**Combien lui reste-il à collecter ?**



18

Sur la parking du supermarché, il y a 5 rangées de 15 places.

**Combien de places y a-t-il en tout ?**

<hr/>	

18

Sur la parking du supermarché, il y a 5 rangées de 15 places.

**Combien de places y a-t-il en tout ?**

<hr/>	

18

Sur la parking du supermarché, il y a 5 rangées de 15 places.

**Combien de places y a-t-il en tout ?**

<hr/>	

19

Pour le spectacle de fin d'année, 98 chaises ont été installées dans la salle des fêtes. 72 tickets d'entrée ont été distribués

**Combien de chaises resteront inutilisées ?**


19

Pour le spectacle de fin d'année, 98 chaises ont été installées dans la salle des fêtes. 72 tickets d'entrée ont été distribués

**Combien de chaises resteront inutilisées ?**


19

Pour le spectacle de fin d'année, 98 chaises ont été installées dans la salle des fêtes. 72 tickets d'entrée ont été distribués

**Combien de chaises resteront inutilisées ?**


20

Le fleuriste a commandé 45 roses.  
Il doit réaliser des bouquets de 15 roses.

**Combien de bouquets va-t-il pouvoir faire ?**


20

Le fleuriste a commandé 45 roses.  
Il doit réaliser des bouquets de 15 roses.

**Combien de bouquets va-t-il pouvoir faire ?**


20

Le fleuriste a commandé 45 roses.  
Il doit réaliser des bouquets de 15 roses.

**Combien de bouquets va-t-il pouvoir faire ?**
