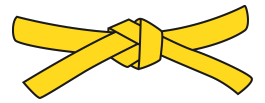



Mon carnet de problèmes



NIVEAU 2

1

2

3

4

5

6

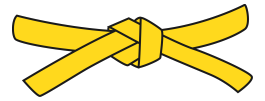
7

8

9

10

Mon carnet de problèmes



NIVEAU 2

1

2

3

4

5

6

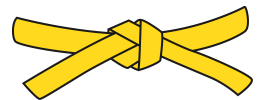
7

8

9

10

Mon carnet de problèmes



NIVEAU 2

1

2

3

4

5

6

7

8

9

10

1

Bastien a commandé au fleuriste un bouquet avec 8 roses, 5 tulipes et 3 narcisses.

Combien de fleurs aura-t-il en tout dans son bouquet ?

1

Bastien a commandé au fleuriste un bouquet avec 8 roses, 5 tulipes et 3 narcisses.

Combien de fleurs aura-t-il en tout dans son bouquet ?

1

Bastien a commandé au fleuriste un bouquet avec 8 roses, 5 tulipes et 3 narcisses.

Combien de fleurs aura-t-il en tout dans son bouquet ?

2

Alicia a acheté 3 filets contenant chacun 5 oranges. Elle a également acheté 4 poires.

Combien de fruits a-t-elle achetés en tout ?

2

Alicia a acheté 3 filets contenant chacun 5 oranges. Elle a également acheté 4 poires.

Combien de fruits a-t-elle achetés en tout ?

2

Alicia a acheté 3 filets contenant chacun 5 oranges. Elle a également acheté 4 poires.

Combien de fruits a-t-elle achetés en tout ?

3

Louna est venue à l'école avec 10 cartes. Elle en perd 6 à la récréation du matin puis en a gagné 8 à la récréation de l'après-midi.

Combien de cartes a-t-elle en quittant l'école ?

3

Louna est venue à l'école avec 10 cartes. Elle en perd 6 à la récréation du matin puis en a gagné 8 à la récréation de l'après-midi.

Combien de cartes a-t-elle en quittant l'école ?

3

Louna est venue à l'école avec 10 cartes. Elle en perd 6 à la récréation du matin puis en a gagné 8 à la récréation de l'après-midi.

Combien de cartes a-t-elle en quittant l'école ?

4

En revenant de la boulangerie, Marius n'a plus que 5 euros.
Il y a acheté une tarte à 6 euros et une brioche à 4 euros.

Combien avait-il avant de faire ses achats ?

4

En revenant de la boulangerie, Marius n'a plus que 5 euros.
Il y a acheté une tarte à 6 euros et une brioche à 4 euros.

Combien avait-il avant de faire ses achats ?

4

En revenant de la boulangerie, Marius n'a plus que 5 euros.
Il y a acheté une tarte à 6 euros et une brioche à 4 euros.

Combien avait-il avant de faire ses achats ?

5

Tom, Emma et Sarah se partagent les 15 euros de leur vente de vêtements à la brocante. Sarah avait déjà 8 euros dans sa tirelire.

Combien possède-t-elle maintenant ?

5

Tom, Emma et Sarah se partagent les 15 euros de leur vente de vêtements à la brocante. Sarah avait déjà 8 euros dans sa tirelire.

Combien possède-t-elle maintenant ?

5

Tom, Emma et Sofia se partagent les 15 euros de leur vente de vêtements à la brocante. Sofia avait déjà 8 euros dans sa tirelire.

Combien possède-t-elle maintenant ?

6

Sarah a 12 ans. Elle a 4 ans de plus que son frère Paul.
Paul a 2 ans de moins que Mathis.

Quel âge a Mathis ?

6

Sarah a 12 ans. Elle a 4 ans de plus que son frère Paul.
Paul a 2 ans de moins que Mathis.

Quel âge a Mathis ?

6

Sarah a 12 ans. Elle a 4 ans de plus que son frère Paul.
Paul a 2 ans de moins que Mathis.

Quel âge a Mathis ?

7

Dans la réserve de matériel, la maitresse a 18 stylos en tout.
Il y a 8 stylos bleus et 4 stylos verts.
Le reste est composé uniquement de stylos rouges.
Combien y a-t-il de stylos rouges ?

7

Dans la réserve de matériel, la maitresse a 18 stylos en tout.
Il y a 8 stylos bleus et 4 stylos verts.
Le reste est composé uniquement de stylos rouges.
Combien y a-t-il de stylos rouges ?

7

Dans la réserve de matériel, la maitresse a 18 stylos en tout.
Il y a 8 stylos bleus et 4 stylos verts.
Le reste est composé uniquement de stylos rouges.
Combien y a-t-il de stylos rouges ?

8

Lucien a planté 3 rangs contenant chacun 5 choux-fleurs.
Il a également planté 4 choux-rouges.

Combien de choux a-t-il plantés en tout ?

8

Lucien a planté 3 rangs contenant chacun 5 choux-fleurs.
Il a également planté 4 choux-rouges.

Combien de choux a-t-il plantés en tout ?

8

Lucien a planté 3 rangs contenant chacun 5 choux-fleurs.
Il a également planté 4 choux-rouges.

Combien de choux a-t-il plantés en tout ?

9

Dans le minibus menant à l'école, il y a 18 places. 8 enfants montent à bord au premier arrêt puis 4 autres enfants montent au second arrêt.

Combien de places reste-t-il ?

9

Dans le minibus menant à l'école, il y a 18 places. 8 enfants montent à bord au premier arrêt puis 4 autres enfants montent au second arrêt.

Combien de places reste-t-il ?

9

Dans le minibus menant à l'école, il y a 18 places. 8 enfants montent à bord au premier arrêt puis 4 autres enfants montent au second arrêt.

Combien de places reste-t-il ?

10

Alicia a cuisiné 16 biscuits au chocolat. Elle doit faire des sachets contenant chacun 5 biscuits.

Combien de sachets peut-elle faire ?

Combien de biscuits reste-t-il ?

10

Alicia a cuisiné 16 biscuits au chocolat. Elle doit faire des sachets contenant chacun 5 biscuits.

Combien de sachets peut-elle faire ?

Combien de biscuits reste-t-il ?

10

Alicia a cuisiné 16 biscuits au chocolat. Elle doit faire des sachets contenant chacun 5 biscuits.

Combien de sachets peut-elle faire ?

Combien de biscuits reste-t-il ?