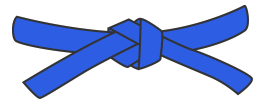



Mon carnet de problèmes



NIVEAU 5

11

12

13

14

15

16

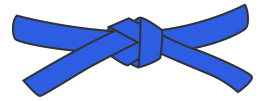
17

18

19

20

Mon carnet de problèmes



NIVEAU 5

11

12

13

14

15

16

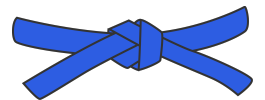
17

18

19

20

Mon carnet de problèmes



NIVEAU 5

11

12

13

14

15

16

17

18

19

20

11

À l'école de la fée Carabiscornue, il y a 46 apprentis sorciers et 46 apprentis magiciens.

Combien y a-t-il d'apprentis en tout dans cette école ?

11

À l'école de la fée Carabiscornue, il y a 46 apprentis sorciers et 46 apprentis magiciens.

Combien y a-t-il d'apprentis en tout dans cette école ?

11

À l'école de la fée Carabiscornue, il y a 46 apprentis sorciers et 46 apprentis magiciens.

Combien y a-t-il d'apprentis en tout dans cette école ?

12

Ce matin, Simone la fermière a ramassé beaucoup d'oeufs et a réussi à remplir 5 boîtes de 12 oeufs.

Combien d'oeufs a-t-elle ramassés en tout ?

12

Ce matin, Simone la fermière a ramassé beaucoup d'oeufs et a réussi à remplir 5 boîtes de 12 oeufs.

Combien d'oeufs a-t-elle ramassés en tout ?

12

Ce matin, Simone la fermière a ramassé beaucoup d'oeufs et a réussi à remplir 5 boîtes de 12 oeufs.

Combien d'oeufs a-t-elle ramassés en tout ?

13

La maitresse a acheté 62 stylos pour la classe.
Les élèves en ont déjà utilisés 29.

Combien de stylos reste-t-il ?

13

La maitresse a acheté 62 stylos pour la classe.
Les élèves en ont déjà utilisés 29.

Combien de stylos reste-t-il ?

13

La maitresse a acheté 62 stylos pour la classe.
Les élèves en ont déjà utilisés 29.

Combien de stylos reste-t-il ?

14

En rentrant de sa journée de shopping, Martin n'a plus que 25 euros en poche. Il a acheté des vêtements pour 48 euros.

Combien d'argent avait-il en poche avant sa journée de shopping ?

14

En rentrant de sa journée de shopping, Martin n'a plus que 25 euros en poche. Il a acheté des vêtements pour 48 euros.

Combien d'argent avait-il en poche avant sa journée de shopping ?

14

En rentrant de sa journée de shopping, Martin n'a plus que 25 euros en poche. Il a acheté des vêtements pour 48 euros.

Combien d'argent avait-il en poche avant sa journée de shopping ?

15

Monsieur Dutilleul, le maitre des CE2, a commandé 75 cahiers pour la classe. Il y a 25 élèves.

Combien de cahiers chacun aura-t-il ?

15

Monsieur Dutilleul, le maitre des CE2, a commandé 75 cahiers pour la classe. Il y a 25 élèves.

Combien de cahiers chacun aura-t-il ?

15

Monsieur Dutilleul, le maitre des CE2, a commandé 75 cahiers pour la classe. Il y a 25 élèves.

Combien de cahiers chacun aura-t-il ?

16

Sonia a vendu pour 92 euros de billets de tombola. C'est 26 euros de plus que Julian.

Quel montant a récolté Julian ?

16

Sonia a vendu pour 92 euros de billets de tombola. C'est 26 euros de plus que Julian.

Quel montant a récolté Julian ?

16

Sonia a vendu pour 92 euros de billets de tombola. C'est 26 euros de plus que Julian.

Quel montant a récolté Julian ?

17

Élodie est à son cours de dessin. Celui-ci dure 1 heure.
Mais aujourd'hui elle s'ennuie un peu, elle regarde l'horloge et s'aperçoit que 38 minutes se sont déjà écoulées.

Combien de minutes reste-t-il avant la fin du cours ?

17

Élodie est à son cours de dessin. Celui-ci dure 1 heure.
Mais aujourd'hui elle s'ennuie un peu, elle regarde l'horloge et s'aperçoit que 38 minutes se sont déjà écoulées.

Combien de minutes reste-t-il avant la fin du cours ?

17

Élodie est à son cours de dessin. Celui-ci dure 1 heure.
Mais aujourd'hui elle s'ennuie un peu, elle regarde l'horloge et s'aperçoit que 38 minutes se sont déjà écoulées.

Combien de minutes reste-t-il avant la fin du cours ?

18

En attendant le bus, Pauline s’amuse à compter les fenêtres de l’immeuble d’en face. Elle dénombre 5 fenêtres par étage et compte 12 étages. **Combien de fenêtres y a-t-il en tout sur cette façade d’immeuble ?**

18

En attendant le bus, Pauline s’amuse à compter les fenêtres de l’immeuble d’en face. Elle dénombre 5 fenêtres par étage et compte 12 étages. **Combien de fenêtres y a-t-il en tout sur cette façade d’immeuble ?**

18

En attendant le bus, Pauline s’amuse à compter les fenêtres de l’immeuble d’en face. Elle dénombre 5 fenêtres par étage et compte 12 étages. **Combien de fenêtres y a-t-il en tout sur cette façade d’immeuble ?**

19

Le parking souterrain du centre-ville contient 82 places.
À l'entrée, le compteur indique 65 places occupées.

Combien de places libres reste-t-il ?

19

Le parking souterrain du centre-ville contient 82 places.
À l'entrée, le compteur indique 65 places occupées.

Combien de places libres reste-t-il ?

19

Le parking souterrain du centre-ville contient 82 places.
À l'entrée, le compteur indique 65 places occupées.

Combien de places libres reste-t-il ?

20

Aujourd'hui, Diego a récolté 75 oranges.
Il les revend au marché par filets de 15 oranges.

Combien de filets peut-il faire aujourd'hui ?

20

Aujourd'hui, Diego a récolté 75 oranges.
Il les revend au marché par filets de 15 oranges.

Combien de filets peut-il faire aujourd'hui ?

20

Aujourd'hui, Diego a récolté 75 oranges.
Il les revend au marché par filets de 15 oranges.

Combien de filets peut-il faire aujourd'hui ?
