

Diviser des dizaines entières

1 Tu dois répartir de façon identique 40 crayons dans 10 pots.
Combien de crayons vas-tu mettre dans chaque pot ?




\div = ou \times =

2 Maxime a dépensé 80 euros pour acheter ces 4 livres.
Quel est le prix d'un livre ?



\div = ou \times =

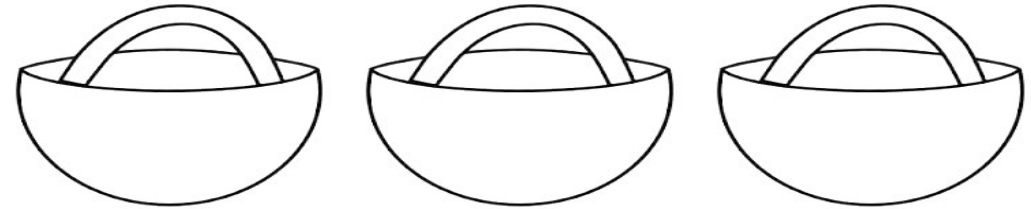
3 Lisa range ses 60 billes en faisant des paquets de 20.
Combien de paquets va-t-elle faire ?



\div = ou \times =

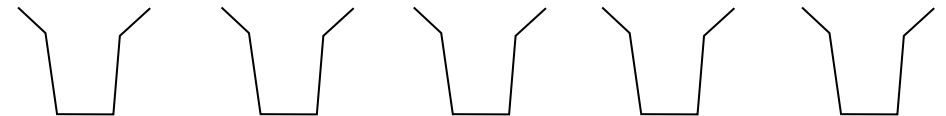
Diviser des dizaines entières

4 Louise cueille 60 cerises. Pour les vendre au marché, elle les répartit dans 3 paniers de façon identique.
Combien de cerises met-elle dans chaque panier ?



\div = ou \times =

5 Le fleuriste a 50 roses qu'il répartit à l'identique dans 5 vases.
Combien de roses met-il par vase ?



\div = ou \times =

Calcul mental

$40 \div 2 =$ _____

$90 \div 3 =$ _____

$80 \div 2 =$ _____

$50 \div 5 =$ _____

$60 \div 3 =$ _____

$70 \div 10 =$ _____