


Retirer un nombre à 2 chiffres

1 Mathieu a un troupeau de 42 moutons. Pendant la nuit une meute de loups en a dévorés 20. Combien de moutons reste-t-il ? Entoure des paquets de 10 moutons. Barre les moutons qui ont été dévorés, complète le calcul puis réponds à la question.



$$\quad - \quad =$$


Retirer un nombre à 2 chiffres

3 Nicolas le pâtissier a confectionné 43 gâteaux au chocolat. Il en a vendus 26. Combien de gâteaux lui reste-t-il ? Entoure des paquets de 10 gâteaux au chocolat. Barre ceux qui ont été vendus puis réponds à la question.




$$\quad - \quad =$$

2 Lucas a cueilli 38 pommes dans son verger. Depuis, il en a mangées 16. Combien de pommes lui reste-t-il ? Entoure des paquets de 10 pommes. Barre les pommes qui ont été mangées, complète le calcul puis réponds à la question.



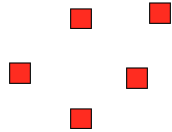
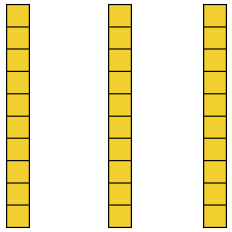
$$\quad - \quad =$$

4 Le maitre a acheté 62 gommes pour la réserve de la classe. Les élèves en ont déjà consommées 38. Combien de gommes reste-t-il ? Entoure des paquets de 10 gommes. Barre celles qui ont été consommées, complète le calcul puis réponds à la question.

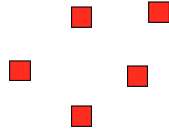
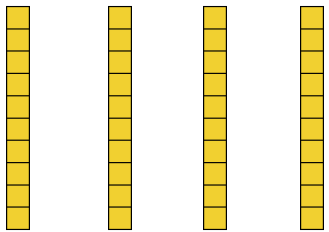


$$\quad - \quad =$$

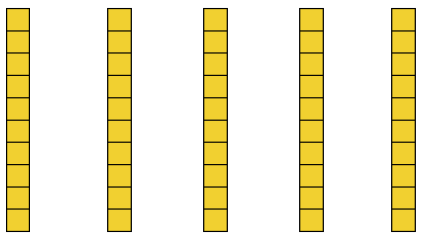
5 Barre sur les dessins ce que tu retires, puis complète les calculs.



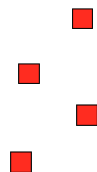
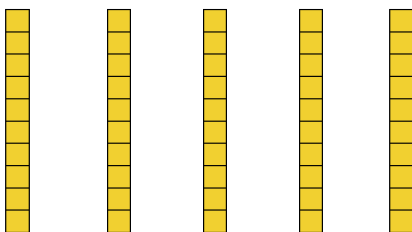
$$35 - 23 =$$



$$45 - 26 =$$



$$53 - 25 =$$



$$54 - 37 =$$

6 Complète les calculs.

$$35 - 23 =$$

$$= 35 - \underline{\quad} - 3$$

$$= \boxed{\quad}$$

$$45 - 26 =$$

$$= 45 - 20 - \underline{\quad}$$

$$= \boxed{\quad}$$

$$27 - 15 =$$

$$= 27 - \underline{\quad} - 5$$

$$= \boxed{\quad}$$

$$42 - 25 =$$

$$= 42 - \underline{\quad} - \underline{\quad}$$

$$= \boxed{\quad}$$

$$51 - 23 =$$

$$= 51 - \underline{\quad} - \underline{\quad}$$

$$= \boxed{\quad}$$

$$54 - 28 =$$

$$= \underline{\quad} - \underline{\quad} - \underline{\quad}$$

$$= \boxed{\quad}$$

$$56 - 38 =$$

$$= \underline{\quad} - \underline{\quad} - \underline{\quad}$$

$$= \boxed{\quad}$$

Calcul mental

$$32 - 12 = \underline{\quad}$$

$$51 - 23 = \underline{\quad}$$

$$45 - 24 = \underline{\quad}$$

$$62 - 34 = \underline{\quad}$$

$$45 - 26 = \underline{\quad}$$

$$43 - 25 = \underline{\quad}$$