


Ajouter des nombres à 2 chiffres


- 1 Pauline possède dans sa ferme 23 poules et 14 canards. Combien d'animaux a-t-elle en tout ? Entoure des paquets de 10 poules et de 10 canards, complète le calcul puis réponds à la question.



$$+ =$$

Pauline _____.

- 2 Louise a acheté 32 citrons et 23 pommes. Combien de fruits a-t-elle achetés en tout ? Entoure des paquets de 10 citrons et de 10 pommes, complète le calcul puis réponds à la question.




$$+ =$$

Louise _____.

Ajouter des nombres à 2 chiffres


- 3 Nicolas le pâtissier a confectionné 25 gâteaux au chocolat et 15 gâteaux à la fraise. Combien de gâteaux va-t-il pouvoir vendre en tout ? Entoure des paquets de 10 gâteaux au chocolat et de 10 gâteaux à la fraise, complète le calcul puis réponds à la question.



$$+ =$$

Nicolas _____.

- 4 Youssef a récolté 27 carottes et 25 aubergines dans son potager. Combien de légumes a-t-il récoltés en tout ? Entoure des paquets de 10 carottes et de 10 aubergines, complète le calcul puis réponds à la question.

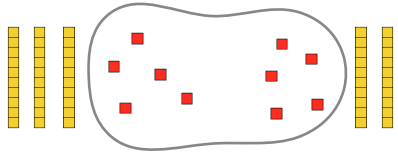


$$+ =$$

Youssef _____.

Ajouter des nombres à 2 chiffres


5 Entoure un paquet de 10 avec les unités isolées puis complète les calculs.



$35 + 25 =$



$45 + 35 =$



$27 + 15 =$



$38 + 25 =$



$49 + 43 =$



$54 + 28 =$



$56 + 36 =$

Ajouter des nombres à 2 chiffres

6 Complète les calculs.

$35 + 25 = 30 + \underline{\quad} + 5 + 5 = \square$

$45 + 35 = 40 + 30 + \underline{\quad} + \underline{\quad} = \square$

$27 + 15 = 20 + \underline{\quad} + 7 + 5 = \square$

$38 + 25 = 30 + 20 + \underline{\quad} + \underline{\quad} = \square$

$49 + 43 = \underline{\quad} + \underline{\quad} + \underline{\quad} + \underline{\quad} = \square$

$54 + 28 = \underline{\quad} + \underline{\quad} + \underline{\quad} + \underline{\quad} = \square$

$56 + 36 = \underline{\quad} + \underline{\quad} + \underline{\quad} + \underline{\quad} = \square$

Calcul mental

$14 + 13 = \underline{\quad}$

$18 + 14 = \underline{\quad}$

$35 + 22 = \underline{\quad}$

$37 + 24 = \underline{\quad}$

$45 + 43 = \underline{\quad}$

$46 + 26 = \underline{\quad}$