
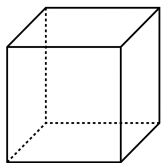
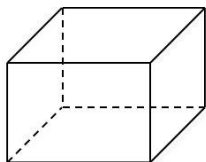
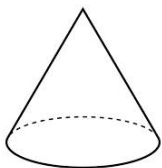


Remets le nom de chaque solide au bon endroit : *cône, cylindre, cube, pavé droit.*



.....

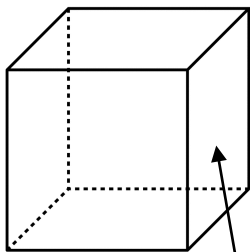
.....



.....

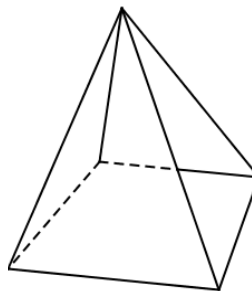
.....

Remplace au bon endroit les mots suivants : *face, arête, sommet.*



.....

Complète la description de ce solide.



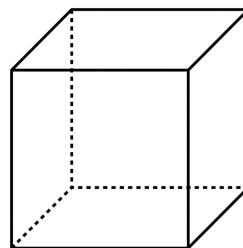
Ce solide a faces, sommets et arêtes.

4 de ses faces ont la forme d'un

1 de ses faces a la forme d'un

Il s'agit d'une

Écris une description de ce solide.



.....

Signature :

Je ne sais pas encore

Je sais un peu

Je sais

Reconnaitre, nommer et décrire quelques solides