

Diviser des dizaines entières

1

Tu dois répartir de façon identique 40 crayons dans 10 pots.
Combien de crayons vas-tu mettre dans chaque pot ?



$\div =$

ou

$\times =$

2

Maxime a dépensé 80 euros pour acheter ces 4 livres.
Quel est le prix d'un livre ?




$\div =$

ou

$\times =$

3

Lisa range ses 60 billes en faisant des paquets de 20.
Combien de paquets va-t-elle faire ?



$\div =$

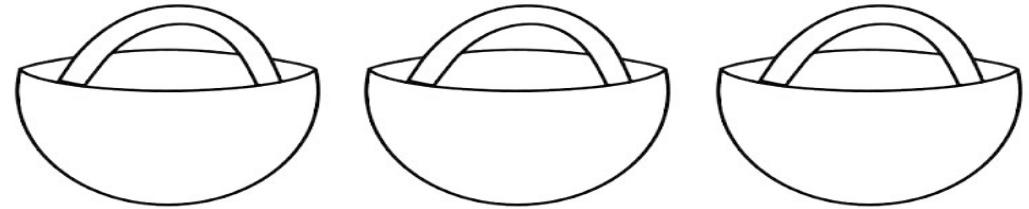
ou

$\times =$

Diviser des dizaines entières

4

Louise cueille 60 cerises. Pour les vendre au marché, elle les répartit dans 3 paniers de façon identique.
Combien de cerises met-elle dans chaque panier ?



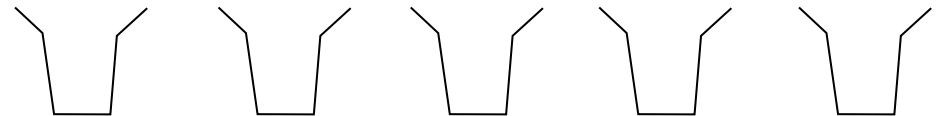
$\div =$

ou

$\times =$

5

Le fleuriste a 50 roses qu'il répartit à l'identique dans 5 vases.
Combien de roses met-il par vase ?



$\div =$

ou

$\times =$

Calcul réfléchi

$40 \div 2 =$ _____

$90 \div 3 =$ _____

$80 \div 2 =$ _____

$50 \div 5 =$ _____

$60 \div 3 =$ _____

$70 \div 10 =$ _____